


ΟΝΟΜΑ: _____

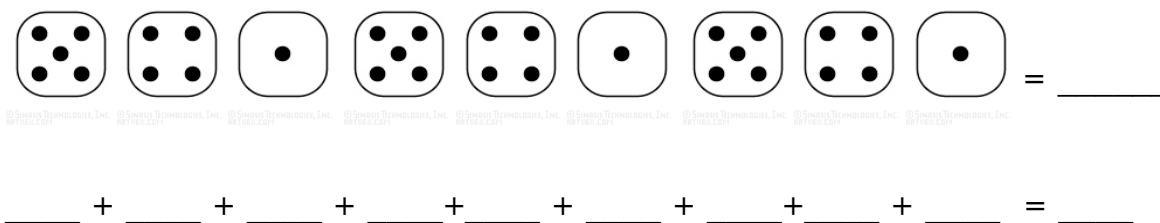
ΜΑΘΗΜΑΤΙΚΑ 3^η ΕΝΟΤΗΤΑ

Επαναληπτικές Ασκήσεις 2 (Κεφ. 16-23)

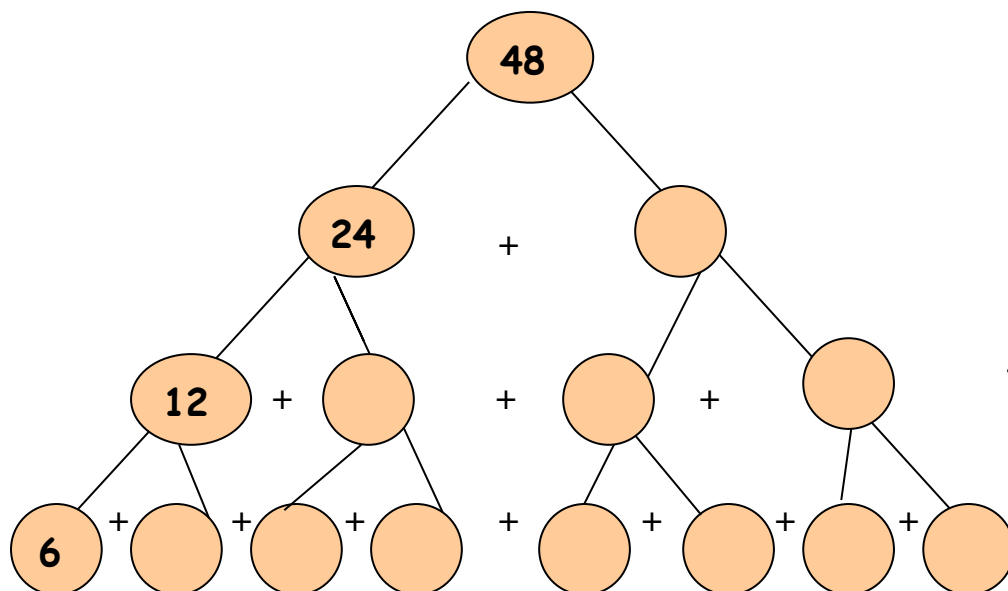
1. Συμπληρώνω τους αριθμούς που λείπουν.



2. Υπολογίζω τη συνολική αξία των παρακάτω μοτίβων:



3. Φτιάχνω το μαγικό δέντρο του 48.



$$48 = \underline{\quad} + \underline{\quad}$$

ή $\underline{\quad} \times 24$

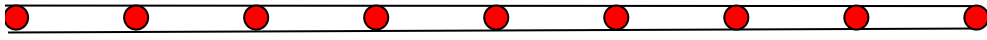
$$48 = \underline{\quad} + \underline{\quad} + \underline{\quad} + \underline{\quad}$$

ή $\underline{\quad} \times 12$

$$48 = \underline{\quad} + \underline{\quad} + \underline{\quad} + \underline{\quad} + \underline{\quad} + \underline{\quad} + \underline{\quad} + \underline{\quad}$$

ή $\underline{\quad} \times 6$

4. Πόση απόσταση θα διανύσει η μελισσούλα για να φτάσει στο λουλουδάκι;



3εκ. 3εκ 3εκ. 3εκ 3εκ. 3εκ 3εκ. 3εκ.

Υπολογίζω:

5. Υπολογίζω με το νου τις παρακάτω προσθέσεις.

$$13 + 23 + 22 = \underline{\hspace{10cm}}$$

$$31 + 32 + 15 = \underline{\hspace{10cm}}$$

$$14 + 42 + 13 = \underline{\hspace{10cm}}$$

$$26 + 31 + 22 = \underline{\hspace{10cm}}$$

6. Ένα λεωφορείο χωράει 100 επιβάτες. Έχουν ανέβει 76 επιβάτες. Πόσοι επιβάτες πρέπει να ανέβουν ακόμα για να γεμίσει το λεωφορείο;



Υπολογίζω
με πρόσθεση:

Υπολογίζω
με αφαίρεση: