


Όνομα: \_\_\_\_\_

## 1. Πόσο κάνει;



$6+4+3=$  \_\_\_\_\_

$5+5+7=$  \_\_\_\_\_

$20+3=$  \_\_\_\_\_

$5+5+7=$  \_\_\_\_\_

$3+7+1=$  \_\_\_\_\_

$30+6=$  \_\_\_\_\_

$8+2+4=$  \_\_\_\_\_

$2+8+9=$  \_\_\_\_\_

$20+4=$  \_\_\_\_\_

$7+3+9=$  \_\_\_\_\_

$9+1+4=$  \_\_\_\_\_

$10+9=$  \_\_\_\_\_

$9+1+2=$  \_\_\_\_\_


$6+4+8=$  \_\_\_\_\_

$20+2=$  \_\_\_\_\_

2. Ο Βασίλης αγόρασε μία πίτσα και μία μακαρονάδα. Πόσα χρήματα πλήρωσε;

Λύση

$$\square \quad \square = \square$$



9 ευρώ



7 ευρώ

Απάντηση: \_\_\_\_\_

### 3. Συμπληρώνω το ημερολόγιο

\_\_\_\_\_

\_\_\_\_\_

\_\_\_\_\_

Τρίτη

**14**

Μαρτίου

\_\_\_\_\_

\_\_\_\_\_

Μαρτίου














Πέμπτη

\_\_\_\_\_

\_\_\_\_\_

—

### 4. Κάνε τις παρακάτω προσθέσεις σχηματίζοντας πρώτα μία δεκάδα.

|   |   |   |  |   |
|---|---|---|--|---|
|    |    |    |    |    |
|   | $6+5=$ _____  |   | $5+8=$ _____   |   |
|   | $7+6=$ _____  |   | $8+8=$ _____   |   |
|  | $8+6=$ _____  |   | $7+9=$ _____   |   |
|  | $9+3=$ _____  |   | $6+9=$ _____   |  |
|   |  |  |  |   |

### 5. Διαβάζω τις οδηγίες και σχηματίζω το δικό μου ανθρωπάκι

Κεφάλι → κύκλος

Μάτια → τετράγωνα

Μύτη → τρίγωνο

Στόμα → ορθογώνιο

Αυτιά → τρίγωνο

